


## WORD – ZADANIA

### Zadanie 1

Wstawić do dokumentu dowolny rysunek z biblioteki Clipart lub Internetu, a następnie skopiować dwa egzemplarze rysunku w pomniejszeniu (jak poniższy przykład)



### Zadanie 2

Utworzyć następującą listę

#### A) Figury Płaskie

- 1) Trójkąty
  - a) Równoboczna
  - b) Prostokątne
  - c) Pozostałe
- 2) Czworokątne
  - a) Prostokąty
  - (1) Kwadraty
- 3) Koła

#### B) Bryły

- 1) Graniastosłupy
  - a) Prostopadłościanny
- 2) Ostrosłupy
  - a) Trójkątne
  - b) Czworokątne
- 3) Kule

### Zadanie 3

Napisać wzory chemiczne:  $H_2O$ <sup>1</sup>,  $C_2H_5OH$ <sup>2</sup>,  $Al_2(SO_4)_2$ <sup>3</sup>  
Wstawić przypisy na dole strony jak podano poniżej.

### Zadanie 4

Utworzyć nowy dokument i wpisać do niego poniższy tekst zachowując formatowanie. Poniższy tekst jest napisany czcionką Times New Roman i częściowo czcionką Arial. Tytuł jest napisany czcionką Courier New.

---

<sup>1</sup> Woda

<sup>2</sup> Alkohol

<sup>3</sup> Siarczan glinu

# Polityka oświatowa

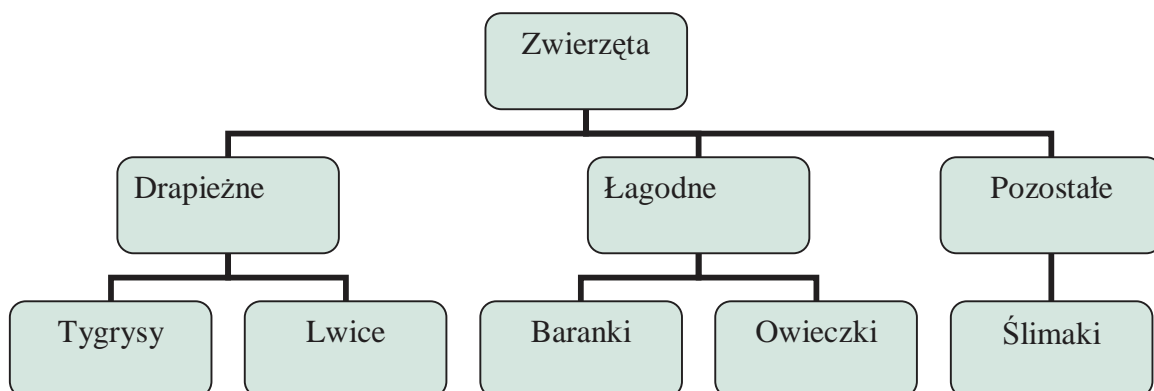
**Polityka oświatowa** jest integralną częścią *polityki społecznej*. Obejmuje ona całokształt problemów dotyczących ustroju szkolnictwa, organizacji procesu nauczania, metod kształcenia i wychowania.

W praktyce polityka oświatowa oznacza działania państwa w dziedzinie szkolnictwa i wychowania, realizowanie celów kształcenia oraz podstawy materialno-techniczne funkcjonowania przyjętego systemu oświatowego jak i zarządzanie instytucjami zajmującymi się tą dziedziną. W temacie kształcenia zawodowego istotnym jest przygotowanie takiej liczby kadr w poszczególnych zawodach i specjalnościach, która będzie mogła być wykorzystana przez gospodarkę i odpowiadać jej potrzebom w celu ograniczenia bezrobocia .

## Zadanie 5

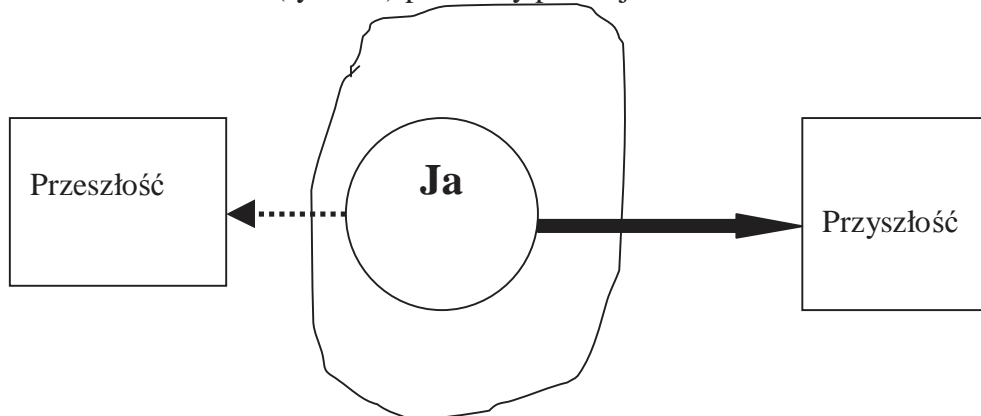
Utworzyć schemat organizacyjny

### Klasyfikacja Zwierząt



## Zadanie 6

Utwórz schemat (rysunek) pokazany poniżej




### Zadanie 7

Utwórz dokument według wzoru poniżej:

## OBÓZ MŁODZIEŻOWY 2 0 0 8

*Grecja – czar magicznej Hellady przyciąga co roku tysiące turystów. Sprawiają to: słońce, ciepłe morze, wspaniały klimat, złociste plaże.*



KLIMAT									
Miesiące	III	IV	V	VI	VII	VIII	IX	X	XI
Temp. w południe	17	20	25	29	32	32	29	24	20
Temp. w nocy	9	12	16	20	22	22	20	16	13
Temp. wody	16	17	19	21	23	25	24	22	20

### Zadanie 8

Ponumerować strony dokumentu w ten sposób żeby:

1. numery stron znajdowały się na środku u dołu
2. numeracja była liczbami rzymskimi
3. pierwsza strona zaczynała się od numeru V.

### Zadanie 9

Napisać następujące wzory matematyczne

**Dwumian Newtona**

$$(a + b)^n = \sum_{k=0}^n \binom{n}{k} a^k b^{n-k}$$

**Liczba e**

$$e = \lim_{n \rightarrow \infty} \left(1 + \frac{1}{n}\right)^n$$